

B. Write any two things you know about each type of dinosaur:

1. Plant-eaters
 - a. _____
 - b. _____
2. Meat-eaters
 - a. _____
 - b. _____
3. Slow-movers
 - a. _____
 - b. _____
4. Flyers
 - a. _____
 - b. _____

Section-B

GRAMMAR

B1.Fill in the blanks using the correct conjunctions:--(4)

Last Sunday I went to my friend's house _____(or, because) it was her birthday. His father was decorating the house _____(so,as) there was a party in the evening.

His mother baked a big _____(and,or) tasty cake for guests _____(and,but) relatives.

B2. Fill in the blanks with a,an,the-- (4)

Yesterday my father bought _____ umbrella for me. _____ umbrella was bright and colourful. My father bought it from _____ shopping mall. I like _____ umbrella very much.

B3. Choose correct adjectives:-- (2)

Yesterday I went to a trip with my family. It was an _____(exciting, funny) trip. I wore a _____ (beautiful, clear) frock.

Section-C

WRITING

C1. Your friend won gold medal in the race on the sports meet of your school. Write a letter to your friend congratulating him/her. (6)

C2. . Complete the dialogues between two friends:- (4)

John- You are looking too happy today?

Raj-1 _____
John- Wow! Where and when did you get it?

Raj-2 _____
John- What is its colour?

Raj-3 _____
John- Is there something unique on it?

Raj- 4 _____

Section-D

COURSEBOOK

D1. Answer the following:

1. Do you think the Piper was right to take away the children? Why?
2. What was wrong with Mr Carson's cakes?
3. What was Ulluji's plan?
4. How did the peasant spend his money?

D2. True/False:

1. The naughty boy would not stop at home. _____
2. The poet was searching for his banana tree. _____

D3. Fill in the blanks:

1. The wolves agreed to help _____.
2. Butter churn is a _____.

वार्षिक परीक्षा (2018-19)
विषयः हिन्दी दोहराई पेपर
कक्षाः तीन

निर्देशानुसार प्रश्नों के उत्तर दें:

कः प्रश्न पत्र चार खंडों में विभक्त है, क, ख, ग तथा घ।

खः प्रत्येक प्रश्न को ध्यान से पढ़ें।

गः क्रमानुसार प्रश्नों के उत्तर दें।

घः साफ और सुंदर शब्दों में लिखें।

(भाग क)

प्रः- 1(क) नीचे लिखे गद्यांश को पढ़ कर प्रश्नों के उत्तर लिखो : (4)

एक मोटा हाथी नदी में नहा रहा था। उसने नदी में अपनी परछाई देखी और सोचा, मैं सब जानवरों से बड़ा हूँ। मुझे तो जंगल का राजा होना चाहिए। उसने सब जानवरों को बुलाया और कहा- मैं तुम सब का राजा हूँ। सब जानवरों ने उसे राजा मान लिया परन्तु एक चींटी ने उसे राजा मानने से मना कर दिया। हाथी ने उसे सूँड से उठाकर मारना चाहा। चींटी ने उसकी सूँड में कई जगह काट लिया। हाथी तड़प उठा। अन्त में उसने चींटी से हार मान ली। वह बोली - शरीर बड़ा होने से कोई बड़ा नहीं होता।

प्रः- i) हाथी ने नदी में क्या देखा ?

क) मगरमच्छ ख) परछाई ग) मछली घ) लकड़ी

प्रः- ii) हाथी सब जानवरों से क्या था ?

क) बड़ा ख) छोटा ग) मोटा घ) शरारती

प्रः- iii) सब जानवरों ने हाथी को क्या मान लिया ?

क) मंत्री ख) छोटा ग) राजा घ) बड़ा

प्रः- iv)क्या बड़ा होने से कोई बड़ा नहीं होता ?

क) मुँह ख) टाँगें ग) अक्ल घ) शरीर

प्रः- v)एक संज्ञा शब्द ढूँढ कर लिखो ।

प्रः- vi)गद्यांश में से दो विशेषण शब्द छाँटकर लिखें ।

1

प्रः- vii)गद्यांश में आए एक आधे अक्षर वाला शब्द लिखें ।

(ख) नीचे लिखे पद्यांश को पढ़ कर प्रश्नों के उत्तर चुने : (3)

एक आम का पेड़ लगाया, था मैंने जो आंगन में,
नन्हा सा लाए थे पापा,इसको मेरे जन्मदिवस पर ।
पाला- पोसा मैंने इसको,पानी- खाद दिया था जमकर,
अब मुझसे भी बड़ा हो गया,देखो यह आनन- फानन में ।

प्रः- i)आम का पेड़ कहाँ लगाया था?

क) पहाड़ पर ख) खेतों में ग) आँगन में घ) दरवाज़े पर

प्रः- ii)आम का पेड़ कौन लाया था ?

क) पापा ख) दादी ग) अंकल घ) मम्मी

प्रः- iii)पापा आम का पौधा कब लाए थे ?

क) जन्मदिवस पर ख) दिवाली पर ग) होली पर घ) शादी पर

प्रः- iv)एक सर्वनाम शब्द ढूँढ कर लिखो ।

प्रश्न- v) बच्चा कौन सी क्रिया करता है दो क्रिया शब्द लिखें ।

प्रश्न- vi)पद्यांश में आए दो तुक वाले शब्द लिखो ।

(भाग- ग)

(2) चित्र देखकर किया का सही रूप लगाकर वाक्य लिखें-

(2)



(3) निम्नलिखित स्थानों में किया का उचित रूप भरकर वाक्य पूरा करें-

(1)

1) मदन लड़ाई _____ ।

(4) निम्नलिखित वाक्यों को भूतकाल में बदलकर लिखिए ।

(2)

i) कोमल अपना होमवर्क कर रही है ।

ii) रीना स्कूल जा रही है ।

(5) निम्नलिखित वाक्यों में किया किस काल में हो रही है लिखें ।

(2)

i) नौकरानी सब्जी काट रही है ।

(वर्तमानकाल/भूतकाल)

ii) कल वर्षा अवश्य होगी ।

(वर्तमानकाल/भविष्यकाल)

(6) रिक्त स्थानों में उचित विशेषण भरिए-

(1)

(तीन,मीठा,हरा भरा)

i) मेहुल की कमीज के लिए _____ मीटर कपड़ा चाहिए ।

ii) मेरे स्कूल के सामने _____ बाग है ।

(7) दी गई वर्ग पहेली में से विशेषण शब्द ढूँढकर लिखें।

(2)

व	द	सू	र	त
का	ड़ा	ठ	च	ख
ला	ल	च	तु	झ
स	म	झ	दा	र

(8) निम्नलिखित अनेक शब्दों के लिए एक शब्द लिखिए-

(2)

i) काम से जी चुराने वाला।

ii) लिखने वाला।

(भाग-ग)

(8)

(9) मेरी अध्यापिका या दीवाली विषय पर अनुच्छेद लिखें।

|

(10) अपने मित्र को जन्मदिन पर बधाई देते हुए पत्र लिखिए।

(भाग -घ)

(11) निम्नलिखित पठित गद्यांश को पढ़कर प्रश्नों के उत्तर लिखें -

(3)

सेठ गोपीचंद ने बालक का नाम पूछा। उसने अपना नाम कैलाश बताया। सेठ जी ने पूछा, कैलाश तुम्हें भोजन के लिए कितने रुपए चाहिए? कैलाश ने कहा सेठ जी पाँच रुपए में मैं इच्छा भर भोजन कर लूँगा। सेठ जी ने कहा अच्छा यदि मैं तुम्हें दस रुपए दे दूँ तो तुम क्या करोगे?

प्रश्न- i) सेठ गोपीचंद ने क्या पूछा?

प्रश्न- ii) उसने अपना नाम क्या बताया?

प्रश्न- iii) बालक ने सेठ जी से रुपए क्यों माँगे?

(12) निम्नलिखित पठित पद्यांश को पढ़कर प्रश्नों के उत्तर लिखें -

(4)

होली राखी और दीवाली
भारत की हर बात निराली।
आपस में हिल मिल कर रहते
प्रेम बंदगी हम सब करते
पाहुन को खिला-खिलाकर
शादी में देते प्रेम की गाली
भारत की हर बात निराली।

प्रश्न- i) हर बात निराली किसकी है?

ii) शादी में किसको खिलाते हैं?

iii) रिक्त स्थान भरें-

होली ————— और —————

प्रश्न- iv) पद्यांश में से दो तुक वाले शब्द बताएँ।

13) निम्नलिखित प्रश्नों के उत्तर पाठ्य पुस्तक के आधार पर दीजिए:

(6)

प्रश्न- i) शाहजहाँ ने ताजमहल क्यों बनवाया था?

प्रश्न- ii) प्रभु ने हमें काम करने के लिए क्या दिए हैं?

प्रश्न- iii) कैलाश ने सेठजी से भोजन के लिए कितने रूपए माँगे?

प्रश्न- v) भारत में सब कैसे रहते हैं?

14) निम्नलिखित प्रश्नों के उत्तर मूल्यों पर आधारित दीजिए:-

प्रश्न- हमें लालच क्यों नहीं करना चाहिए है? लिखो।

GRADE=3: SECTION: _____ SUBJECT: ICT DATE: _____

STUDENT NAME:_____TEACHER'SNAME_____

TIME: 1HR.

Revision paper

MARKS: 20

Section- A

Q1. Why do we use MS word?

$$(2*4=8)$$

Q2 Write 4 features of word software.

Q3 Write steps to save a file in MS word.

Q4. Write the uses of shift key.

Section- B

Q5.Rewrite the correct statement if it is wrong else **True**.

(4)

1. Logo is a human language
2. To run logo command we will press spacebar key
3. Turtle looks like a square in shape
4. We cannot hide turtle in logo

Section-C

Q6. One word

(5)

1. The other name of arrow keys is...
2. It a word processing software...
3. To move the cursor to next line we will press....
4. There are number of function keys....
5. A keyboard has Number of shift keys

Section-D

Q7.Multiple choice questions:

(3)

- a) The shortcut to print a paper is..
i.Ctrl+P ii. Ctrl+V iii. Ctrl+Miv.None of these
- b)To take a new blank page in MS word we will select... option
i.save as ii.Newiii.Open iv.all of these
- c)To close the logo program we will type...
i.bye ii.ST iii.Home iv.Kt



Revision Paper (2018-19)

Grade: 3

Subject: MATHS

Duration: 1 hrs.

Maximum Marks: 40

Teacher Incharge:

Name of student:

Section – A (1+1+1+1+1+1)


1) Any number divided by 1 gives _____





2) There are _____ ₹ 10 coins in ₹ 100

3) Give the time

2 hours after 11.45 am = _____.

4) _____ line is called x-axis.

5) If 1  = 9 children

Then     = _____ children.

6) What comes before 7 times 6 = _____

Section – B (2+2+2+2+2)

7) Divide by repeated subtraction

$$56 \div 8$$

8) Divide and write Quotient and Remainder

$$976 \div 18$$

9) Write in words

₹ 210.75

10) Mohit buys a water bottle for ₹42.55 and a school bag for ₹255.85. Which is costlier and by how much?

11) Draw the clock showing time 10:45 and write the time in 2 ways.

Section – C (3+3+3+3)

12) Divide and Check

$$856 \div 6$$

13) Siya started her journey at 8:15 am. Her journey from home to school took 2 hr 15 mins. At what time she reached her school?

14) a) Convert ₹13.75 into paise

b) Write the amount in short form

Two hundred forty five rupees and five paise

15) Draw a pictograph showing the hobbies of Class 3 students

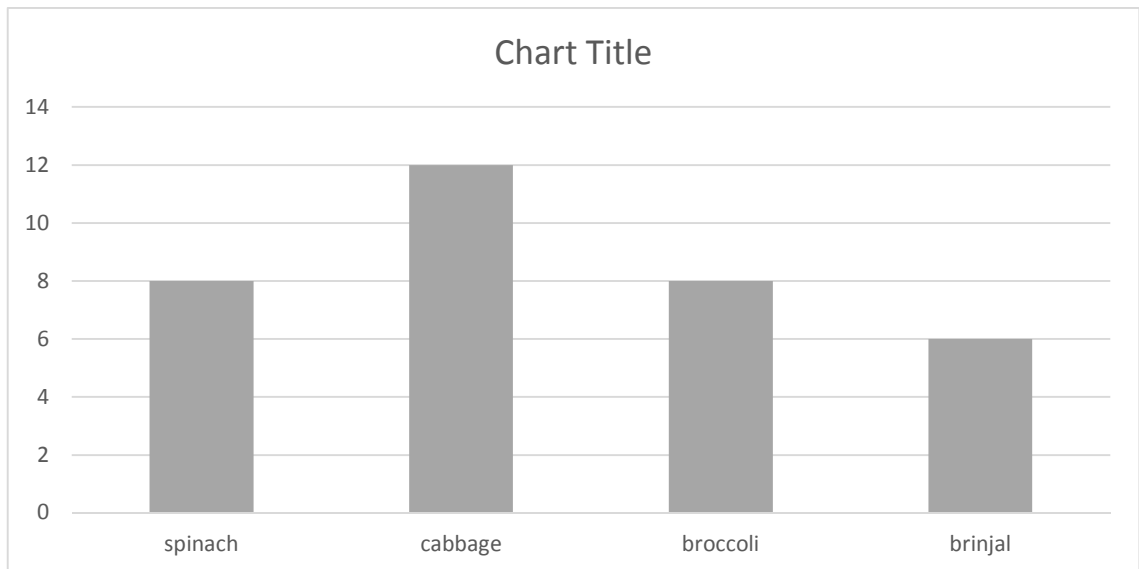
Hobby	Dancing	Reading	Painting	Playing
NO. OF STUDENTS	21	18	9	15

Key 1  =3 students

Section – D (4+4+4)

16) 945 Kg wheat is distributed among Amit and four of his friends . How much kg will each get ? What value is depicted here?

17) Study the bar graph and answer the questions given.



a) Which vegetable is most popular?

b) How many more students like broccoli than brinjal?

c) Which vegetable is least popular?

d) Which vegetables are liked equally?

18) Complete the bill and find the total amount

S.no	Items	Rate / item (in ₹)	Quantity	Cost
1	Art book	45.50	3	
2	Activity book	84	2	
3	Grammar	90	9	
4	Thesaurus	123	4	



ਸਲਾਨਾ ਪ੍ਰੀਖਿਆ (2018-19) ਦੁਹਰਾਈ

ਜਮਾਤ: ਤੀਜੀ

ਵਿਸ਼ਾ -ਪੰਜਾਬੀ

ਸਮਾਂ: 3 ਘੰਟੇ

ਕੁੱਲ

ਅੰਕ: 40

- ਨੋਟ:-ਸਾਰੇ ਪ੍ਰਸ਼ਨ ਜ਼ਰੂਰੀ ਹਨ।
- ਲਿਖਾਈ ਸਾਫ਼ ਤੇ ਸਪੱਸ਼ਟ ਹੋਣੀ ਚਾਹੀਦੀ ਹੈ।
- ਬਹੁ-ਵਿਕਲਪੀ ਪ੍ਰਸ਼ਨਾਂ ਦੇ ਉੱਤਰ, ਉੱਤਰ-ਪੁਸਤਿਕਾ ਵਿੱਚ ਲਿਖੋ।

ਭਾਗ - ਓ (ਪੜ੍ਹਨ ਕੌਸ਼ਲ)

(5)

ਪ੍ਰਸ਼ਨ 1 (ਓ) ਹੇਠ ਲਿਖੇ ਪੈਰ੍ਹੇ ਨੂੰ ਪੜ੍ਹ ਕੇ ਪ੍ਰਸ਼ਨਾਂ ਦੇ ਉੱਤਰ ਚੁਣੋ :

(5)

ਸਰਸਾ ਨਦੀ ਦੇ ਕੰਢੇ ਗੁਰੂ ਗੋਬਿੰਦ ਸਿੰਘ ਜੀ ਦਾ ਪਰਿਵਾਰ ਅਲੱਗ-ਅਲੱਗ ਹੋ ਗਿਆ । ਵੱਡੇ ਸਾਹਿਬਜ਼ਾਦੇ ਅਤੇ ਸਿੰਘਾਂ ਦੀ ਫ਼ੌਜ ਗੁਰੂ ਜੀ ਦੇ ਨਾਲ ਸੀ । ਹਨੇਰੀ ਰਾਤ ਤੇ ਕਹਿਰ ਦੀ ਸਰਦੀ ਸੀ । ਛੋਟੇ ਸਾਹਿਬਜ਼ਾਦੇ, ਜ਼ੋਰਾਵਰ ਸਿੰਘ ਅਤੇ ਫਤਿਹ ਸਿੰਘ ਆਪਣੀ ਦਾਦੀ , ਮਾਤਾ ਗੁਜਰੀ ਜੀ ਦੇ ਨਾਲ ਸਨ । ਗੰਗੂ ਰਸੋਈਆ ਉਨ੍ਹਾਂ ਨੂੰ ਆਪਣੇ ਨਾਲ ਪਿੰਡ ਲੈ ਗਿਆ । ਓਧਰ ਸਰਹੰਦ ਦੇ ਨਵਾਬ ਵਜ਼ੀਰ ਖ਼ਾਨ ਨੇ ਗੁਰੂ ਜੀ ਤੇ ਉਨ੍ਹਾਂ ਦੇ ਪਰਿਵਾਰ ਨੂੰ ਫੜ ਕੇ ਲਿਆਉਣ ਲਈ ਇਨਾਮ ਰੱਖੇ ਹੋਏ ਸਨ । ਇਨਾਮ ਦੇ ਲਾਲਚ ਵਿੱਚ ਆ ਕੇ ਗੰਗੂ ਰਸੋਈਏ ਨੇ ਗ਼ੱਦਾਰੀ ਕਰਦੇ ਹੋਏ ਨਵਾਬ ਨੂੰ ਖ਼ਬਰ ਭਿਜਵਾ ਕੇ ਛੋਟੇ ਸਾਹਿਬਜ਼ਾਦੇ ਤੇ ਮਾਤਾ ਗੁਜਰੀ ਜੀ ਨੂੰ ਗਿਫ਼ਤਾਰ ਕਰਵਾ ਦਿੱਤਾ।

ਪ੍ਰਸ਼ਨ 1. ਕਿਸ ਨਦੀ ਦੇ ਕੰਢੇ ਗੁਰੂ ਗੋਬਿੰਦ ਸਿੰਘ ਜੀ ਦਾ ਪਰਿਵਾਰ ਅਲੱਗ-ਅਲੱਗ ਹੋ ਗਿਆ ?

ਪ੍ਰਸ਼ਨ 2. ਛੋਟੇ ਸਾਹਿਬਜ਼ਾਦਿਆਂ ਦੇ ਕੀ ਨਾਂ ਸਨ ?

ਪ੍ਰਸ਼ਨ 3. ਗੰਗੂ ਕੌਣ ਸੀ ?

ਪ੍ਰਸ਼ਨ 4. ਸਰਹੰਦ ਦੇ ਨਵਾਬ ਦਾ ਨਾਂ ਕੀ ਸੀ ?

ਪ੍ਰਸ਼ਨ 5. ਗਿਫ਼ਤਾਰ ਕਿਸ ਨੂੰ ਕੀਤਾ ਗਿਆ ?

(2) ਬਹੁ ਵਿਕਲਪੀ ਪ੍ਰਸ਼ਨ

(1+1+1+1+1=4)

1. 'ਬਿੱਲਾ' ਸ਼ਬਦ ਦਾ ਸਹੀ ਇਸਤਰੀ ਲਿੰਗ ਚੁਣੋ -

(ੳ) ਬਿੱਲੀਆਂ (ਅ) ਬਿੱਲੀ (ੲ) ਬਾਂਦਰੀ (ਸ) ਊਠਣੀ

2. 'ਭੇਡ' ਸ਼ਬਦ ਦਾ ਸਹੀ ਬਹੁਵਚਨ ਚੁਣੋ -

(ੳ) ਭੇਡਾਂ (ਅ) ਬੱਕਰੀਆਂ (ੲ) ਕਲੀਆਂ (ਸ) ਘੜੀਆਂ

3. 'ਅਸਲੀ' ਸ਼ਬਦ ਦਾ ਸਹੀ ਵਿਰੋਧੀ ਚੁਣੋ -

(ੳ) ਨਕਲੀ (ਅ) ਸਹੀ (ੲ) ਵਧੀਆ (ਸ) ਚੰਗਾ

4. 'ਮੋਹਨਤ' ਸ਼ਬਦ ਦਾ ਸੁੱਧ ਰੂਪ ਚੁਣੋ -

(ੳ) ਮਹਿਨਤ (ਅ) ਮਿਹਨਤ (ੲ) ਮੈਹਨਤ (ਸ) ਮਹੀਨਤ

(3) ਬਿਨਾਂ ਬਹੁ-ਵਿਕਲਪੀ ਪ੍ਰਸ਼ਨ :

ੳ. ਹੇਠ ਲਿਖੇ ਸ਼ਬਦ ਦਾ ਇਸਤਰੀ ਲਿੰਗ ਲਿਖੋ :

(1++1+1+1=4)

1. ਕੁੱਕੜ

ਅ. ਹੇਠ ਲਿਖੇ ਸ਼ਬਦ ਦਾ ਬਹੁਵਚਨ ਬਦਲੋ :

1. ਔਰਤ

ੲ. ਹੇਠ ਲਿਖੇ ਸ਼ਬਦ ਦਾ ਵਿਰੋਧੀ ਸ਼ਬਦ ਲਿਖੋ :

1. ਗੁਰੂ

ਸ. ਹੇਠ ਲਿਖੇ ਸ਼ਬਦ ਦਾ ਸੁੱਧ- ਰੂਪ ਲਿਖੋ:

1. ਸਨਤਰਾ

(ਭਾਗ-ੲ) ਪ੍ਰਭਾਵਸ਼ਾਲੀ ਲਿਖਣ ਕੌਸ਼ਲ

(ਅੰਕ :

14)

1. ਕਿਸੇ ਇੱਕ ਵਿਸ਼ੇ ਤੇ ਲੇਖ ਲਿਖੋ।

(7)

ਮੇਰਾ ਮਿੱਤਰ / ਸਹੇਲੀ

ਜਾਂ

ਮੇਰਾ ਘਰ

2.ਆਪਣੇ ਸਕੂਲ ਦੇ ਮੁੱਖ ਅਧਿਆਪਕ ਨੂੰ ਜ਼ਰੂਰੀ ਕੰਮ ਦੀ ਛੁੱਟੀ ਲੈਣ ਵਾਸਤੇ ਬਿਨੈ-ਪੱਤਰ ਲਿਖੋ।

(4)

3.ਹੇਠਾਂ ਦਿੱਤੀ ਤਸਵੀਰ ਨੂੰ ਦੇਖ ਕੇ 4-5 ਲਾਈਨਾਂ ਵਿੱਚ ਲਿਖੋ।

(3)



ਭਾਗ-ਸ (ਪਾਠ ਪੁਸਤਕ ਤੇ ਅਧਾਰਿਤ)

(13)

ਪ੍ਰਸ਼ਨ 5:- (ੳ) ਹੇਠ ਲਿਖੇ ਸ਼ਬਦਾਂ ਦੇ ਅਰਥ ਲਿਖੋ:-

(1+1=2)

1. ਸਮਾਂ ਸਾਰਨੀ
2. ਸ਼ਰਮਾਉਣਾ

(ਅ) ਵਾਕ ਬਣਾਉ:-

(1+1=2)

1. ਖੁਸ਼ੀ
2. ਜਮਾਤ

(ੲ) ਖਾਲੀ ਥਾਂਵਾਂ ਭਰੋ:-

(1+1=2)

(ਭੁੰਗਾ, ਅਲੋਪ)

1 ਮਨਰੂਪ ਦਾ ਡਰ ਇਕਦਮ _____ ਹੈ ।

2. ਦਾਦਾ ਜੀ ਦੀ ਸਿੱਖਿਆ ਨੇ ਕੰਵਲ ਦੇ ਮਨ ਤੇ _____ ਅਸਰ ਕੀਤਾ ।

(ਸ) ਸਹੀ ਉੱਤਰ ਚੁਣੋ:-

(1+1=2)

1. ਕੰਵਲ ਦੇ ਮੰਮੀ -ਪਾਪਾ ਨੇ ਉਸ ਨੂੰ ਕਿਸ ਕੋਲ ਭੇਜਨ ਦਾ ਫੈਸਲਾ ਕੀਤਾ ?

(ੳ) ਨਾਨਾ ਜੀ (ਅ) ਦਾਦਾ ਜੀ (ੲ) ਸਕੂਲ

2. ਕੱਛੂ ਨੇ ਆਪਣਾ ਸਰੀਰ ਕਿਸ ਅੰਦਰ ਲੁਕੇ ਲਿਆ ?

(ੳ) ਖੋਲ ਅੰਦਰ (ਅ) ਖੁੱਡ ਅੰਦਰ (ੲ) ਪਾਣੀ ਅੰਦਰ

(ਹ) ਹੇਠ ਲਿਖੇ ਪ੍ਰਸ਼ਨਾਂ ਦੇ ਉੱਤਰ ਲਿਖੋ:-

(1+1+1+1+1=5)

1. ਕੰਵਲ ਆਪਣੀਆਂ ਗਰਮੀਆਂ ਦੀਆਂ ਛੁੱਟੀਆਂ ਵਿੱਚ ਕਿੱਥੇ ਗਿਆ ?

2. ਮਿੱਤਰ ਕਿਹੋ ਜਿਹਾ ਹੋਣਾ ਚਾਹੀਦਾ ਹੈ ?

3. ਮੰਮੀ ਪਾਪਾ ਨੇ ਕੀ ਫੈਸਲਾ ਕੀਤਾ ?

4. ਗਿੱਧੇ ਵਿੱਚ ਧੂਮ ਕਿਸਨੇ ਮਚਾਈ ?

5. ਤੋਤੇ ਦੀ ਕੁੜਮਾਈ ਕਵਿਤਾ ਵਿੱਚ ਆਏ ਪੰਛੀਆਂ ਦੇ ਨਾਂ ਲਿਖੋ।



REVISION PAPER SESSION (2018-19)

SUBJECT - SCIENCE

GRADE 3

Time allotted: 3 hours

Maximum Marks: 40

GENERAL INSTRUCTIONS:

- Read the question paper carefully.
- The question paper comprises of 4 sections i.e. Sec A,B,C and D.
- Section A carries 5 MCQ'S contain of one mark each.
- Section B carries 5 questions of two marks each.
- Section C carries 5 questions of three marks each.
- Section D carries 2 questions of five marks each.
- Attempt the subparts of the questions.
- All the question are compulsory.

Section A

Multiple Choice questions.

(1*10=10M)

Q.1 _____ is the part of the plant that contain chlorophyll.

- | | |
|---------|-----------------|
| a) leaf | b) shoot |
| c) root | d) all of these |

Q.2 The change of water vapour to water is called

- | | |
|-----------------|----------------|
| a) condensation | b) evaporation |
| c) water cycle | d) oxygen |

Q.3 It is easy to skate on a hill slope because of _____ friction.

- | | |
|----------|------------------|
| a) less | b) more |
| c) equal | d) none of these |

Q.4 An instrument helps us to see far off objects such as stars , planets
_____.

Q.5 _____ is the shape of the Earth.

- | | |
|-----------|-------------|
| a) round | b) flat |
| c) square | d) triangle |

Section B

Short Answer Questions Type 1

(2*10=20M)



Q. 11 What is germination? Write 3 things that is required for germination.

Q.12 What is the role of respiratory system? Write its organ also.

Q.13 i. What is the reason of phases of moon?

ii. Name some constellation.

Q.14 Circle the odd one out. Give reasons.

- | | | | |
|----------|----------|-------------------|------------------------|
| a) tabla | b) flute | c) chirping birds | d) honking of vehicles |
| a) table | b) board | c) fan | d) lamp |

Q.15 With the help of diagram explains how day and night are caused.

Section C

Short Answer Questions Type 2

(3*10=30M)

Q. 16 i. Define breeze.

ii. In which weather is neither hot nor cold .

iii) What is water cycle?

Q.17 i) Write two important function of stem in plant.

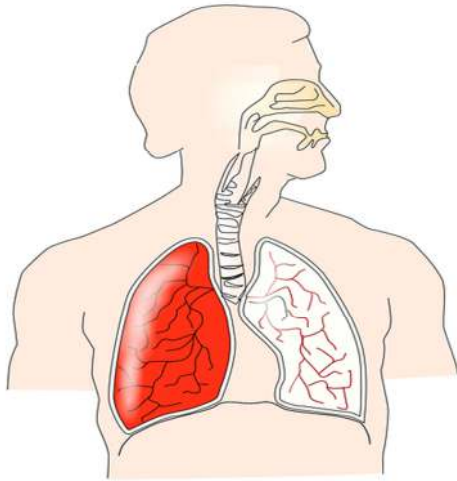
ii) Name 4 edible seeds.

Q.18 How is a shadow formed?

Q. 19. Identify these pictures and write few lines on it.



Q.20 Identify and write the name of this organ system, and Labeled it.



Section C

Long Answer Questions

(5*2=10M)

Q.21 i. What is friction? How does it help us?

ii. Which of the four season is your favorite and why?

Q.2 Comprehension passage:

(1+2+1+1)

Nature has provided us many things like air , water, sunlight, forests that prove useful to us in many ways. These gifts are called natural resources. These resources are of two types renewable and non- renewable resources. Renewable energy that exist in abundance and can be generated over and again. It is also known as inexhaustible resources. Eg. Wind, water and sunlight. Resources that are not found in abundance and cannot be replenished once finished. It is also called exhaustible resources. Eg. Fuels like coal , petrol.

Q. 1 What are natural resources? Give 2 examples.

Q.2 Difference between renewable and non renewable resources?

Q.3 What are exhaustible resources?

Q.4 What is other name of renewable resource?



Revision paper **Final Exam (2018-19)**

Grade: 3

Subject: SOCIAL SCIENCE

Duration: 1 hrs.

Maximum Marks: 40

General Instructions:

- Read the question paper carefully during the **READING TIME**.
- The question paper comprises of 4 sections i.e. Section A, B, C and D.
- Section A carries _____ questions of _____ mark(s) each.
- Section B carries _____ questions of _____ mark(s) each
- Section C carries _____ questions of _____ mark(s) each.
- Section D carries _____ questions of _____ mark(s) each.
- Attempt the subparts of the questions (IF ANY) with the main question only.
- All the questions are compulsory. Answers must be properly numbered.
- Handwriting should be readable.
- Paper must neat and tidy, avoid cutting and overwriting.
- Calculations (if any) must be done in the right margin of the answer sheet.

SECTION - A

Q.1MCQS:-

(1X5 = 5)

Q. 1 Main occupation of the people live in villages _____.

- a) farming b) mining
c) fishing d) both a and b

Q.2 _____ maintain law and order of an area

- a) police b) teacher
c) delivery person d) doctor

Q.3 What do we get from mining?

- a) food and oil b) cotton and oil
c) fish and food d) metal and minerals

Q.4 Full form of FAX

- a) Facsimile machine b) Full Axis machine
c) Fasimile motor d) none of these

Q.5 _____ is the film industry of Tamil.

- a) Hollywood b) Bollywood
c) kollywood d) wollybood

Name these:

(1+1+1+1+1)

1. Largest museums in Asia
2. On which river is Delhi located?
3. Communicate with large number of people at same time.
4. Animal used to carry load during Early human lives.
5. Farming practice in which animals are kept on farms for milk and milk product.

Section B

(3+3+3+3)

Answer the following question:

Q. 1 Why do we need to communicate? Name different types of communication.

Q.2 What do we get from forest ?

Q.3 Identify the picture and write some lines on it.



Q.4 What gave early humans the idea of a wheel?

Section C

(5+5)

Long Question answer:

Q.1 i. Write a short note on telephone.

ii. Write full form of these: a) S.M.S b) TIFR

Q.2 i. Name two famous tourist attraction of Chennai.

ii. What is Postal System?

iii. Why is farming important ?

Q.3 Make a poster to show main occupation in village.

(5)

(3)

Q.4 Comprehension passage:

The condition of the atmosphere at a certain place or time is called weather. It is described using words like sunny, windy , foggy etc. Climate refers to the weather conditions of a place over a long period of time. Factors affecting climate: location , temperature, direction, distance from

equator, rainfall. In India , variations in temperature , rainfall and direction of monsoon winds result in 3 season – summer, winter and monsoon.

Q. 1 What is weather?

Q.2 Which words do we used to describe weather?

Q.3 Write the various factors for season.