

दोहराई परीक्षा (2017-18)

विषयः हिन्दी

कक्षाः पाँच

समय : 1 घंटा

अधिकतम अंकः 40

निर्देशानुसार प्रश्नों के उत्तर देंः

कः प्रश्न पत्र चार खंडों में विभक्त है, क, ख, ग तथा घ।

खः प्रत्येक प्रश्न को ध्यान से पढ़ें।

गः क्रमानुसार प्रश्नों के उत्तर दें।

घः साफ और सुंदर शब्दों में लिखें।

(भाग-क)

(7)

(1) निम्नलिखित पद्यांश को पढ़कर प्रश्नों के उत्तर लिखें -

संकटों से वीर घबराते नहीं

आपदाएँ देखकर छिप जाते नहीं।

लग गए जिस काम में पूरा किया

काम करके व्यर्थ पछताते नहीं।

हो सरल अथवा कठिन हो रास्ता

कर्मवीर को न इससे वास्ता।

बढ़ चले तो अंत तक ही बढ़ चले

कठिनतर गिरिशृंग ऊपर चढ़ गए।

कठिन पन्थ को देखकर मुस्कराते सदा

संकटों के बीच वे गाते सदा ।

है असंभव कुछ नहीं उनके लिए

सरल संभव कर दिखाते वे सदा ।

यह असंभव कायों का शब्द है

कहा था किसी ने एक दिन ।

प्रश्न- i) कर्मवीर को किससे वास्ता नहीं है? 1

प्रश्न- ii) मुश्किल रास्ते को देखकर वीर क्या करते हैं ? 1

प्रश्न- iii) पद्यांश से 'संभव और वीर' का विलोम शब्द छाँटकर लिखो । 1

प्रश्न- iv) वीरों की क्या-क्या विशेषताएँ होती हैं? 2

प्रश्न- iv) पद्यांश से भाववाचक संज्ञा शब्द छाँटकर लिखो । 2

(भाग-ख) (10)

(2) निम्नलिखित वाक्यों में से सर्वनाम शब्दों को रेखांकित कीजिए तथा उसका सही भेद लिखिए- 3

i) मैं यह कार्य स्वयं करूँगा ।

ii) तुम्हारे मेज पर कुछ पड़ा है ।

iii) यह पुस्तक किसकी है ।

(3) रेखांकित शब्दों के लिंग बदलकर वाक्य पुनः लिखिए- 3

i) एक साधु घोड़ा लेकर आ रहा है ।

ii) दर्जी ने मेरे कपड़े खराब कर दिए ।

iii) उसके पास एक बकरा और ऊँट है ।

4) निम्नलिखित किया शब्द का वाक्य प्रयोग करे व सही भेद लिखे : 2

i) पढ़

ii) कूद

(5) निम्नलिखित गद्यांश से चार मुहावरे छोटकर उनके अर्थ लिखो । -

2

रानी लक्ष्मी का घोड़ा हवा से बातें करता था। जब अंग्रेजों रानी के पुत्र को उसका वारिस न माना तो वह आग लाल पीली हो गई। उन्होंने अंग्रेजों की नाक में दम कर दिया और उनको नाकों चने चबा दिए। उन्होंने एडी चोटी का जोर लगाया, बहुत ठोकरे खाई और अंत में वीरगति को प्राप्त हो गई।

(भाग- ग)

(13)

(6) पाठ्यपुस्तक के आधार पर नीचे लिखे प्रश्नों के उत्तर लिखें -

(8)

प्रश्न- i) तिलक जी ने किन पुस्तकों की रचना की?

2

प्रश्न- ii) हम अपनी सभ्यता तथा संस्कृति को कैसे बचा सकते हैं ? पाठ 'मैं और मेरा देश' के आधार पर अपना उत्तर लिखो।

2

प्रश्न- iii) अगर आप डाकू खड़ग सिंह की जगह होते तो क्या करते? अपने विचार लिखिए।

2

प्रश्न- iv) दशरथ मांझी ने पहाड़ तोड़ने का निर्णय क्यों किया। क्या आप उसके निर्णय से सहमत हैं अपने विचार लिखो।

2

7) निम्नलिखित प्रश्नों के उत्तर पाठ्य पुस्तक के आधार पर दीजिए:

(5)

प्रश्न- i) कवि नवयुग का आह्वान करने को क्यों कह रहा है?

2

प्रश्न- ii) निम्न पंक्तियों का भाव स्पष्ट कीजिए-

2

भैया मैं ते चंद्र खिलौन लैहों।

जैहों लोटि धरनि पर अबहीं, तेरी गोद न ऐहों।।

प्रश्न- iii) फूलों को धनी-निर्धन का श्रृंगार क्यों कहते हैं?

1

(भाग -घ)

(10)

(8) अपने मित्र को परीक्षा में प्रथम आने पर बधाई देते हुए पत्र लिखे।

5

(9) 'हमारा पर्यावरण' विषय पर अनुच्छेद लिखें।

5

CAMBRIDGE INTERNATIONAL SCHOOL, PHAGWARA
REVISION TEST (2016-2017)
GRADE-5
ENGLISH

Maximum marks: 40

Time: 1 Hrs

The question paper is divided into four sections:

Section A: Reading 7 Marks
Section B: Writing 10 Marks
Section C: Grammar 12 Marks
Section D: Literature 11 Marks

General Instructions:

-) **All questions are compulsory.**
-) **You may attempt any section at a time.**
-) **All questions of that particular section must be attempted in the correct order.**

Section-A

READING

A1. Read the following passage carefully:

(7)

PUSHKAR

1. Come November and Pushkar in Rajasthan is awake, especially, the week concluding with Kartik Purnima. The lakeside rings with the sound of pilgrims taking dips in the lake, worshipping at the temples along the banks and sadhus chanting scriptures.
2. The rest of the city overflows with thousands of people who bring cattle the camels, to take part in the annual cattle fair, the largest in Asia. Following closely on their heels is the crowd of tourists who troop in to enjoy the fun.
3. Surrounded by hills on the three sides and sand dunes on the fourth, it forms a fascinating backdrop for the festival highlighting Rajasthan's love of colour, music, dance and joyous celebrations.
4. An interesting feature of the fair is the mass trading of camels which holds centre stage. The festival hosts about 50,000 camels which are dressed up, paraded, sold and made to take part in races. The buying and selling of cattle takes place almost simultaneously. The roadside stalls offer traditional Rajasthani clothes, jewellery, handicraft items and mouth-watering delicacies.
5. The evenings are devoted to live shows, arranged specially by the fair authorities, which comprise instrumental music and folk songs; folk dances including the fire dance- all of it bringing to life the vibrant culture of Rajasthan.

Write the option you consider the most appropriate:--

1. Pushkar is world famous for

- a. Its temples and the cattle fair
 - b. Rajasthani folk music
 - c. Its lake and sand dunes
 - d. Rajasthani handicrafts
2. The main purpose of the fair is
- a. To organise camel races and rides
 - b. To buy and sell camels and other cattle
 - c. To display and sell Rajasthani handicrafts
 - d. To enjoy musical shows
3. The expression 'all of it' (paragraph 5) refers to
- a. Rajasthan
 - b. Pushkar
 - c. Items in the evening shows
 - d. Cattle fair
4. The passage seems to suggest that the people of Rajasthan
- a. Love their cattle
 - b. Are very religious
 - c. Like joyous celebrations
 - d. Live a hard life
5. Find synonyms of the given word/ phrase from the passage:
- a. Tender
 - b. To move together
 - c. group

Section-B

WRITING

B1.Imagine that your cousin got a prize in a quiz competition. Write a letter congratulating him. Give your suggestions about how to use the prize money. (6)

B2.You are the Secretary of the Social Welfare Club of your school. The Club is organising a Blood Donation Camp, next week. Write a notice in about 50 words for the school notice board, inviting the students, parents and teachers to donate blood generously. Put the notice in the box. (4)

Section-C

GRAMMAR

C1. Fillsuitable conjunctions to complete the passage: (4)

There are no rules that tell us how we ought to behave _____1_____ (or/and) ought not to behave in all matters. _____2_____ (Although/So) in some matters there are rules that we have to obey. There is a purpose behind it. We obey the rules of the road _____3_____ (unless/ if) the roads are made safe for us. The roads in our towns _____4_____ (but/and) cities are getting more and more busy these days.

C2. Fill in the blanks with suitable form of verb: (4)

The Taj Mahal was build by Shah Jahan in memory of his wife. Its construction begins in 1632 and was complete in 1653. The architect who built it is Isa Khan. Today Taj Mahal consider one of the seven wonders of the world.

--a
--b
-c
--d

| | INCORRECT | CORRECT |
|-----|-----------|---------|
| a-- | _____ | _____ |
| b-- | _____ | _____ |
| c-- | _____ | _____ |
| d-- | _____ | _____ |

C3. Choose the correct word: (4)

Birds ___1___ the symbol of all that is beautiful and royal. The Nepalese royal crown ___2___ splendid tail feathers of the peacock. The vehicle of the Hindu God, Karthikeyan, is the majestic peacock and the flight of the dove ___3___ universally recognized as a symbol of peace. Barn owls ___4___ off rats and mice that would otherwise cause great damage.

1. a. is b. are c. was
2. a. has b. had c. have
3. a. is b. are c. was
4. a. live b. lives c. lived

Section-D

LITERATURE

D1. Read the extractand answer the following questions.(3)

“And what is a king? What treasure are you talking of?”

(i) Who questioned to whom?

- (ii) Why the speaker asked such silly questions?
- (iii) What happened after this?

D2. Answer the following questions in two or three lines. (2x4=8)

1. How do you know that the animals were happy to see their master?
2. What came out of the cocoon? And what did it do?
3. What happen to some of the memories that wonder off?
4. 'The birds and animals were foolish to create commotion' Give you views?

Half Yearly (September 2017-18)
Computer Science(Revision)
Class V

Time: 1 hrs.

M.M: 20

General Instructions:

- Read the questions carefully and answer them in sequence.
- All the questions are compulsory.
- Mark distribution is indicated with each question.

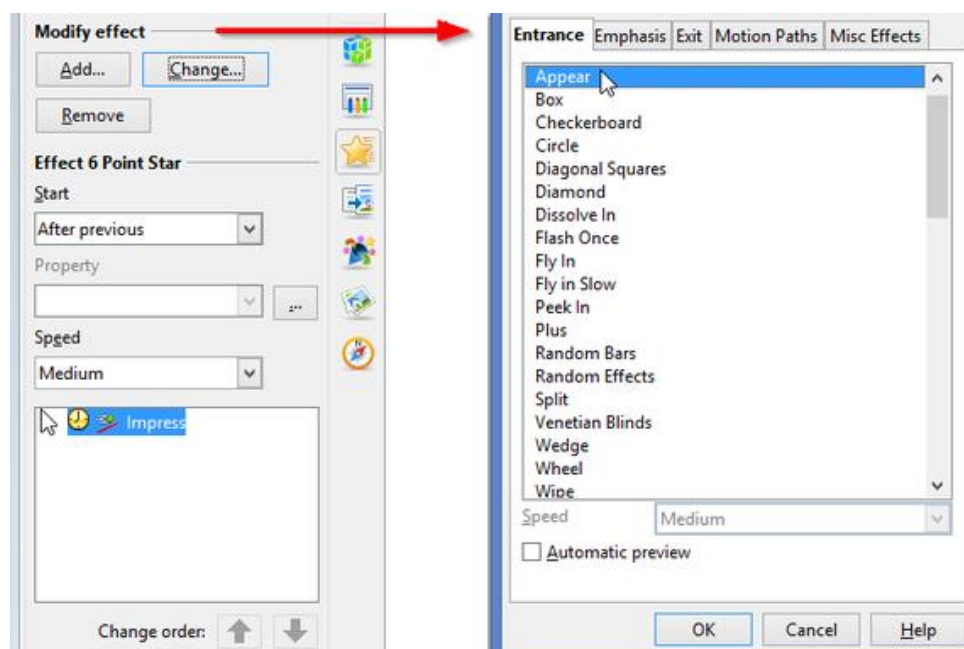
QI Answer the following question.

(2*2=4)

- Can we save our presentation in different format? If yes, write the proper steps for it.
- How we can represent our data in pictorial form? What is its purpose of using it? Name any 2 types of it.

QII Carefully observe the image given below and answer the questions that follow:

(2.5)



- Name the effect and menu to which this dialog box belongs?
- What does the Add and Remove buttons signify?
- What is the purpose of Arrow buttons

0.5

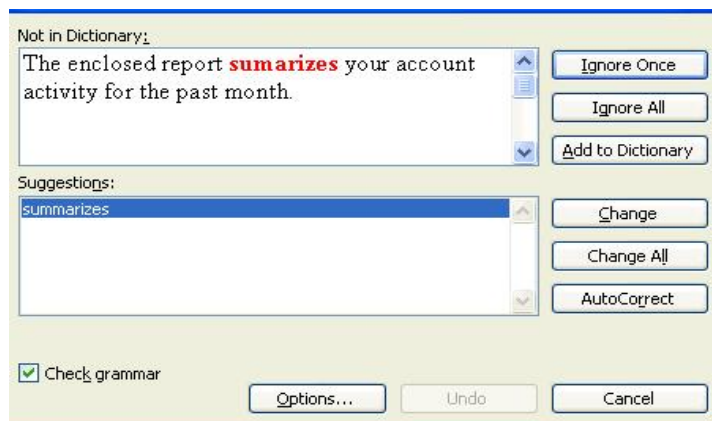
1

1

QIV Rajan wants to write the name of the topic in presentation in a Stylish handwriting. Which feature he should use? (1)

QVI Answer the following question based on the given picture. (5)

- Identify the dialog box. 1
- What the difference between ignore once and ignore all? 1
- Why we use this dialog box? 1
- Name the menu from where we can get this box. 1
- Which colored wavy line is shown for wrong spelling and grammatical mistake? 1



**QVII State whether the given statement is true or false;
Rewrite the incorrect statement.**

(0.5*5=2.5)

1. Spellcheck is available in *view* menu
2. *Slide transition* is used to give effects to the object inside the slide.
3. In normal view, all the slides are shown in *task pane*
4. Bulleted list is also called *Ordered list*.
5. **Notes page view** shows all the slides in miniature version arranged in a sequence.


QVIII One Word

(0.5*5=2.5)

1. It is the pictorial representation of information in the form of lines, slices, dots, etc.
2. The placeholder text is included in every Open office.org Presentation Auto layout except this Slide.
3. Repetition of a Slide is called.
4. Fontwork is available in this toolbar
5. A symbol such as a heavy dot or other character that precedes text in a presentation is called a(n) .

QIX. MCQ's

(0.5*5=2.5)

1. Which of following is not available in Slide Background
 - a. Bitmap
 - b. Color
 - c. Gradient
 - d. None of these
2. Select view → to change the chart values directly in the data table
 - a. Data table
 - b. Table of data
 - c. Chart data table
 - d. DT Dialog box
3. This clock  is used to record the length of the time given to the Slide.
 - a. Floating Clock window
 - b. Clock Float Window
 - c. Window Floating Clock
 - d. None of these
4. Find the odd one out.
 - a. .pptx
 - b. .odp
 - c. .ppt
 - d. .otx
5. In Spelling dialog box ,we select the correct word from_____ box
 - a. Advice
 - b. Suggestions
 - c. Thesaurus
 - d. None of these

REVISION PAPER

GRADE - 5

SUBJECT – MATHS

NAME -

DATE

MM-40

SECTION – A

$1 \times 4 = 4$

Q1. Draw a line segment of length 4.5cm.

Q2. Which of these symbols cannot be repeated in Roman Numerals I, V, X, L

Q3. Circle the non- equivalent fraction

$$\frac{10}{11} = \frac{20}{22} = \frac{30}{28} = \frac{40}{44}$$

Q4. Fill u p

$$125 \times \underline{\hspace{2cm}} = 200000$$

SECTION – B

$2 \times 4 = 8$

Q5. What should be subtracted from Rs. 45,980 to get Rs. 17,900 as answer?

Q6. Find the difference of place value and face value of underlined digit

4 7 6 5 0 4 5

Q7. Find the missing numerals in each of the following –

$$\text{a) } \frac{2}{3} = \frac{\quad}{9} \quad \text{b) } \frac{5}{12} = \frac{25}{\quad}$$

Q8. To ensure the safety of the students of school , Fifth class students with help of class teacher made a triangle PQR such that $PQ = QR = RP = 40 \text{ cm}$, painted and put on the road side.

Name the type of ΔPQR . Which value is depicted by the students of class 5?

SECTION – C

$$3 \times 4 = 12$$

Q9. Create the largest and smallest 7 digit numbers using the digits 2 , 5 , 8 , 4 , 0 , 1 and find the sum of these numbers

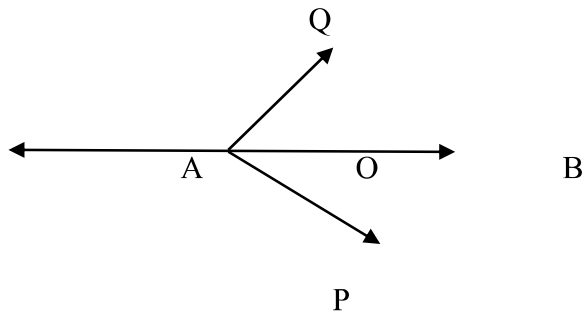
Q10. A factory produces 15,456 toys every month. How many toys are produced in a year?

Q11. A man bought 12 L petrol on Sunday. In two days, he used $4\frac{1}{2}$ L and $5\frac{1}{2}$ L of petrol.

a) Find how much petrol was used in 2 days?

b) How much petrol was left?

Q12. From the given figure identify the following:



- i) a straight angle _____
- ii) an acute angle _____
- iii) vertex _____
- iv) the arms of $\angle POQ$ _____

SECTION – D

$$4 \times 4 = 16$$

Q13. If the digits of the number 684000247 are reversed, what will be the new number formed? Write the reversed number in Indian and International number system by putting commas. Write the number name also. Compare the original number and the reversed number

Q14. Three mini vans contain noodles packets with 24 packets arranged in one carton . Find the number of cartons in each van if total number of noodles packets are 18288.

Q15. a) A family consumes $2\frac{1}{2}$ litres milk every day. What is the total consumption of milk by the family in the month of April?

b) The product of two fractions is 9. If one of the fractions is $2\frac{1}{7}$, find the other fraction.

Q16 – a) Use protractor to draw an $\angle PQR = 75^\circ$ on a line segment QR= 7cm

b) Draw a circle with diameter TL = 12.6 cm

ਜਮਾਤ - ਪੰਜਵੀਂ

ਵਿਸ਼ਾ - ਪੰਜਾਬੀ

ਦੁਹਰਾਈ ਪੇਪਰ (2017-2018)

ਸਮਾਂ - 1 ਘੰਟੇ

ਕੁੱਲ ਅੰਕ - 40

ਨੋਟ:- 1. ਸਾਰੇ ਪ੍ਰਸ਼ਨ ਹੱਲ ਕਰਨੇ ਜ਼ਰੂਰੀ ਹਨ ।

2. ਲਿਖਾਈ ਸਾਫ਼ ਤੇ ਸੁੰਦਰ ਕਰੋ ।

3. ਬਹੁ-ਵਿਕਲਪੀ ਪ੍ਰਸ਼ਨਾਂ ਦੇ ਉੱਤਰ, ਉੱਤਰ-ਪੁਸਤਿਕਾ'ਚ ਲਿਖੋ ।

(ਭਾਗ -ੳ) ਪੜ੍ਹਨ ਕੌਸ਼ਲ

1.(ੳ) ਹੇਠ ਲਿਖੇ ਅਣਡਿੱਠੇ ਪੈਰ੍ਹੇ ਨੂੰ ਪੜ੍ਹ ਕੇ ਪ੍ਰਸ਼ਨਾਂ ਦੇ ਉੱਤਰ ਚੁਣੋ :-

(5x2=10)

ਬੱਬਰ ਸ਼ੇਰ ਸੂਰਬੀਰਤਾ ਤੇ ਹਿੰਮਤ ਦਾ ਚਿੰਨ੍ਹ ਹੈ। ਰਾਜਪੂਤ ਤੇ ਸਿੱਖ ਆਪਣੇ ਨਾਂ ਨਾਲ ਇਸ ਦਾ ਨਾਂ-ਸਿੰਘ-ਲਗਾਉਂਦੇ ਹਨ। ਬੱਬਰ ਸ਼ੇਰ ਸਾਡਾ ਕੌਮੀ ਪਸ਼ੂ ਹੈ। ਅਸ਼ੋਕ ਸਤੰਭ ਉੱਪਰ ਬਣੀ ਚਾਰ ਬੱਬਰ ਸ਼ੇਰਾਂ ਦੀ ਮੂਰਤੀ ਸਾਡੇ ਦੇਸ਼ ਦਾ ਰਾਸ਼ਟਰੀ ਚਿੰਨ੍ਹ ਹੈ, ਜਿਸ ਦੇ ਹੇਠਾਂ 'ਸਤਯ ਮੇਵ ਜਯਤੇ' ਲਿਖਿਆ ਹੈ। ਇਸ ਦਾ ਭਾਵ ਹੈ- ਸੱਚ ਹਮੇਸ਼ਾਂ ਜਿੱਤਦਾ ਹੈ। ਭਾਰਤ ਵਿੱਚੋਂ ਬੱਬਰ ਸ਼ੇਰ ਤਕਰੀਬਨ ਖਤਮ ਹੀ ਹੋ ਚੁੱਕੇ ਹਨ, ਜਿਹੜੇ ਬੱਬਰ ਸ਼ੇਰ ਬਚੇ ਹਨ ਉਹ ਸਿਰਫ ਜੂਨਾਗੜ੍ਹ ਦੇ ਨੇੜੇ 'ਗਿਰ' ਦੇ ਜੰਗਲ ਵਿੱਚ ਹੀ ਮਿਲਦੇ ਹਨ। ਇਸ ਲਈ ਬੱਬਰ ਸ਼ੇਰ ਦੇ ਸ਼ਿਕਾਰ ਦੀ ਆਮ ਤੌਰ 'ਤੇ ਪੂਰਨ ਤੌਰ 'ਤੇ ਮਨਾਹੀ ਹੈ। ਸ਼ੇਰ ਰੁੱਖ ਉੱਤੇ ਚੜ੍ਹਨ ਤੋਂ ਕੰਨੀ ਕਤਰਾਉਂਦਾ ਹੈ ਪਰ ਬੱਬਰ ਸ਼ੇਰ ਇਹਨਾਂ ਉੱਪਰ ਅਸਾਨੀ ਨਾਲ ਚੜ੍ਹ ਜਾਂਦਾ ਹੈ।

1. ਬੱਬਰ ਸ਼ੇਰ ਕਿਸ ਦਾ ਚਿੰਨ੍ਹ ਹੈ?
2. ਰਾਜਪੂਤ ਤੇ ਸਿੱਖ ਆਪਣੇ ਨਾਂ ਪਿੱਛੇ ਕੀ ਲਗਾਉਂਦੇ ਹਨ?
3. ਬੱਬਰ ਸ਼ੇਰ ਸਾਡਾ ਕਿਸ ਤਰ੍ਹਾਂ ਦਾ ਪਸ਼ੂ ਹੈ?
4. ਅਸ਼ੋਕ ਸਤੰਭ ਉੱਪਰ ਕਿੰਨੇ ਬੱਬਰ ਸ਼ੇਰਾਂ ਦੀ ਮੂਰਤੀ ਹੈ?
5. ਅਸ਼ੋਕ ਸਤੰਭ ਦੇ ਹੇਠਾਂ ਕੀ ਲਿਖਿਆ ਹੋਇਆ ਹੈ?

(ਅ) ਹੇਠ ਲਿਖੀ ਅਣਡਿੱਠੀ ਕਵਿਤਾ ਦੀਆਂ ਕਾਵਿ-ਸਤਰਾਂ ਪੜ੍ਹ ਕੇ ਪ੍ਰਸ਼ਨਾਂ ਦੇ ਸਹੀ ਉੱਤਰ ਚੁਣੋ :

ਦਾਦੀ ਆਈ ਘੜੇ 'ਚ ਤੱਕ ਕੇ ,ਕਹਿੰਦੀ, ਵੇਖਾਂ ਕੌਣ ? ਮੁੰਡਾ ਨਹੀਂ ਚੁੜੇਲ ਹੈ ਕੋਈ,ਲੱਗੀ ਰੌਲਾ ਪਾਉਣ।
ਬੁੱਢਾ ਦਾਦਾ ਨੱਸਾ ਆਇਆ,ਘੜੇ 'ਚ ਤੱਕ ਕੇ ਨੱਸਿਆ,ਕਹੇ, ਚੁੜੇਲ ਨਹੀਂ ਕੋਈ,ਕੋਈ ਭੂਤਨਾ ਵੱਸਿਆ।
ਗਲੀ 'ਚ ਰੌਲਾ ਪੈ ਗਿਆ,ਹੋ ਗਏ'ਕੱਠੇ ਨਿਆਣੇ-ਸਿਆਣੇ। ਨਿੱਕੀ ਬਾਤ ਬਤੰਗੜ ਬਣ ਗਈ,ਕੋਈ ਨਾ ਸੱਚ ਪਛਾਣੇ।
ਕੋਈ ਕਹੇ ਕਿ ਭੂਤਾਂ ਵਾਲੇ ਬਾਬੇ ਨੂੰ ਲੈ ਆਓ,ਦਾਨ-ਦਕਸ਼ਣਾ ਦੇ ਕੇ ਉਹਨੂੰ, ਕੋਈ ਫਾਂਡਾ ਕਰਵਾਉ।

- (1) ਦਾਦੀ ਘੜੇ ਵਿੱਚ ਕੀ ਵੇਖਿਆ ?
- (2) ਰੌਲਾ ਸੁਣ ਕੇ ਬੁੱਢੇ ਦਾਦੇ ਨੇ ਕੀ ਕੀਤਾ ?

- (3) ਗਲੀ ਵਿੱਚ ਕੌਣ ਇੱਕਠੇ ਹੋ ਗਏ?
 (4) ਨਿੱਕੀ ਬਾਤ ਕੀ ਬਣ ਗਈ ?
 (5) ਭੂਤਾਂ ਵਾਲੇ ਬਾਬੇ ਕੋਲੋਂ ਕੀ ਕਰਵਾਉਣ ਦੀ ਸਲਾਹ ਦਿੱਤੀ ਗਈ ?

(ਭਾਗ - ਅ) ਵਿਆਕਰਨ

(ਪ੍ਰਸ਼ਨ 1) (ਬਹੁ ਵਿਕਲਪੀ ਪ੍ਰਸ਼ਨ)

(5x1=5)

ਪ੍ਰ 1 - ਭਾਰਤ ਦੀ ਅੰਤਰ-ਰਾਸ਼ਟਰੀ ਭਾਸ਼ਾ ਦਾ ਨਾਂ ਦੱਸੋ?

(ੳ) ਬੰਗਾਲੀ (ਅ) ਅੰਗਰੇਜ਼ੀ (ੲ) ਹਿੰਦੀ (ਸ) ਪੰਜਾਬੀ

ਪ੍ਰ 2 - ਆਮ ਬੋਲਚਾਲ ਦੀ ਬੋਲੀ ਦਾ ਦੂਜਾ ਨਾਂ ਕੀ ਹੈ?

(ੳ) ਲਿਖਤੀ ਭਾਸ਼ਾ (ਅ) ਸਾਹਿਤਕ ਭਾਸ਼ਾ (ੲ) ਮੌਖਿਕ ਭਾਸ਼ਾ (ਸ) ਰਾਸ਼ਟਰੀ ਭਾਸ਼ਾ

ਪ੍ਰ 3 - 'ਰੱਬ ਨੂੰ ਮੰਨਣ ਵਾਲਾ-

(ੳ) ਨਾਸਤਕ (ਅ) ਆਸਤਕ (ੲ) ਪਉਪਕਾਰੀ (ਸ) ਵਧੀਆ

ਪ੍ਰ 4 - 'ਗਲ ਪੈਣਾ' ਮੁਹਾਵਰੇ ਦਾ ਸਹੀ ਅਰਥ ----- ਹੈ ?

(ੳ) ਪਿਆਰ ਕਰਨਾ (ਅ) ਲੜਣਾ (ੲ) ਪੰਜਾਬੀ (ਸ) ਮਾਰ ਮੁਕਾਉਣਾ

ਪ੍ਰ 5 - 'ਕਿਰਲਾ' ਸ਼ਬਦ ਦਾ ਇਸਤਰੀ ਲਿੰਗ ਚੁਣੋ:

(ੳ) ਕਿਰਲੇ (ਅ) ਕਿਰਲਿਆਂ (ੲ) ਕਿਰਲੀ (ਸ) ਕਿਰਲੀਆਂ

(ਪ੍ਰਸ਼ਨ 2) (ਬਿਨਾਂ ਬਹੁ-ਵਿਕਲਪੀ ਪ੍ਰਸ਼ਨ) :-

ਹੇਠ ਲਿਖਿਆ ਪੈਰ੍ਹਾ ਪੜ੍ਹ ਕੇ ਦੋ ਨਾਂਵ ਅਤੇ ਇੱਕ ਕਿਰਿਆ ਚੁਣ ਕੇ ਉਹਨਾਂ ਦੀ ਕਿਸਮ ਲਿਖੋ।

(4x0.5=2)

ਪ੍ਰ 1 - ਪ੍ਰਵੀਨ ਆਪਣੇ ਮਾਤਾ-ਪਿਤਾ ਦਾ ਇੱਕਲੌਤਾ ਪੁੱਤਰ ਹੈ। ਉਸ ਨੂੰ ਘਰ ਵਿੱਚ ਕਿਸੇ ਵੀ ਚੀਜ਼ ਦੀ ਕਮੀ ਨਹੀਂ ਹੈ। ਉਹ ਆਪਣੀ ਜਮਾਤ ਵਿੱਚ ਹਰ ਚੀਜ਼ ਵੰਡ ਕੇ ਖਾਂਦਾ ਹਾਂ। ਉਸ ਨੂੰ ਗਰਮੀ, ਸਰਦੀ, ਬਰਸਾਤ ਹਰ ਮੌਸਮ ਬੜਾ ਵਧੀਆ ਲੱਗਦਾ ਹੈ।

ਪ੍ਰ 2 - ਹੇਠਾਂ ਲਿਖੇ ਪੈਰ੍ਹੇ ਨੂੰ ਧਿਆਨ ਨਾਲ ਪੜ੍ਹੋ ਅਤੇ ਦੋ ਅਸੁੱਧ ਸ਼ਬਦਾਂ ਨੂੰ ਸੁੱਧ ਕਰਕੇ ਲਿਖੋ:

(2x0.5=1)

ਦਾਦਾ ਜੀ ਨੇ ਸਾਰੇ ਬੱਚਿਆਂ ਨੂੰ ਉੱਚੀ ਅਵਾਜ਼ ਮਾਰੀ। ਸਾਰੇ ਇਕਦਮ ਚੁੱਪ ਕਰਕੇ ਬੈਠ ਗਏ।

(ਭਾਗ - ਏ) ਪ੍ਰਭਾਵਸ਼ਾਲੀ ਲਿਖਣ ਕੌਸ਼ਲ

1. ਹੇਠਾਂ ਦਿੱਤੇ ਚਿੱਤਰ ਨੂੰ ਵੇਖ ਕੇ 50-60 ਸ਼ਬਦਾਂ ਵਿੱਚ ਵਰਣਨ ਕਰੋ।

(7)

(ਭਾਗ - ਸ)

ਪਾਠ ਪੁਸਤਕ 'ਤੇ ਅਧਾਰਿਤ ਪ੍ਰਸ਼ਨ

(ਪ੍ਰਸ਼ਨ 1) ਅਤਿ ਛੋਟੇ ਉੱਤਰਾਂ ਵਾਲੇ ਪ੍ਰਸ਼ਨ

(2 x1=2)

ਪ੍ਰ 1 - ਸਾਨੂੰ ਕਿਹੋ ਜਿਹੇ ਲੋਕਾਂ ਨਾਲ ਦੋਸਤੀ ਕਰਨੀ ਚਾਹੀਦੀ ਹੈ?

ਪ੍ਰ 2 -ਬੁੱਧੂ ਆਪਣੀ ਨਾਨੀ ਦੇ ਘਰ ਕੀ ਕਰਨ ਗਿਆ ਸੀ?

(ਪ੍ਰਸ਼ਨ 2) ਛੋਟੇ ਉੱਤਰਾਂ ਵਾਲੇ ਪ੍ਰਸ਼ਨ:

(3x2=4)

ਪ੍ਰ 1 - ਠੇਕੇਦਾਰ ਬਾਬਾ ਜੀ ਕੋਲ ਕੀ ਕਰਨ ਆਇਆ ਸੀ ?

ਪ੍ਰ 2 - ਭਗਤ ਸਿੰਘ ਨੇ ਕਿੰਨੀ ਉਮਰ ਵਿੱਚ ਕਿਹੜੀ ਸੰਸਥਾ ਨਾਲ ਕੰਮ ਕਰਨਾ ਸ਼ੁਰੂ ਕੀਤਾ ?

(ਪ੍ਰਸ਼ਨ 3) ਵੱਡੇ ਉੱਤਰ ਵਾਲਾ ਪ੍ਰਸ਼ਨ :

(5)

ਪ੍ਰ- ਪਾਠ 'ਸਮੇਂ ਦਾ ਮੁੱਲ' ਤੋਂ ਸਾਨੂੰ ਕੀ ਸਿੱਖਿਆ ਮਿਲਦੀ ਹੈ ?

(ਪ੍ਰਸ਼ਨ 4) ਕਦਰਾਂ ਕੀਮਤਾਂ 'ਤੇ ਅਧਾਰਿਤ ਪ੍ਰਸ਼ਨ :

(4)

ਪ੍ਰ - ਸਾਨੂੰ ਆਪਣੀਆਂ ਚੀਜ਼ਾਂ ਆਪਣੇ ਦੋਸਤਾਂ-ਮਿੱਤਰਾਂ ਨਾਲ ਵੰਡ ਕੇ ਖਾਣੀ ਚਾਹੀਦੀਆਂ ਹਨ। ਕਿਉਂ? ਆਪਣੇ ਵਿਚਾਰ 15-20 ਸ਼ਬਦਾਂ ਵਿੱਚ ਲਿਖੋ।

REVISION PAPER SESSION 2017-18

SCIENCE

GRADE-5

Time: 1 hours and 30 min M:M=40

Section -- A

QA. VERY SHORT ANSWER TYPE

(2*1=2)

- 1) The food group which provide fibres –
- 2) The weight of adult brain is:
a) 14g b) 4.1g c) 1.4g d) 41g

Section -- B

QB. SHORT ANSWER TYPE QUESTIONS

(4*2=8)

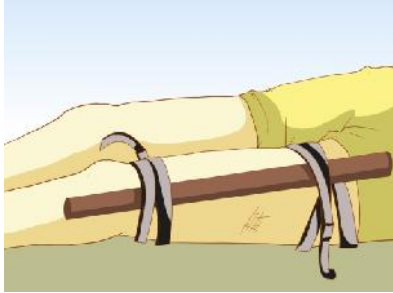
1. Balancing of the body posture is done by which part of brain, write a short note on that part of brain?
2. a) Write the condition essential for the formation of shadow?
b) Imagine you are a lucky student who got a chance to land on moon, write in few words about the surface of moon you saw there?
3. a) Hot air balloon rises up easily in the sky, can you give reason?
b) Dispersal is an important phenomena, comment on this statement.
4. Person who catches fire should run for extinguishing fire, yes/no justify your answer.

Section -- C

QC. SHORT ANSWER TYPE QUESTION

(5*3=15)

1. a) What will happen if cocklebur seeds do not have hooks?
b) Which precautions should be taken by farmers while storing seeds?
2. a) Differentiate between communicable and non-communicable disease?
3. a) Name one disease of each which are caused by viruses and protozoa?



B) write down your observation from image and its use?

4. Solids have definite shape and size but liquids do not, explain in your own words?

5. Sanaa is curious to know that why does fishes have various types of fins, can you clear her how does different types of fins help it to swim?

Section -- D

QD. LONG ANSWER TYPE QUESTIONS

(3*5=15)

1. A child in your neighbour is suffering from nervous system disorder you went to his parents to tell them some information about this disease:

a) Acc. to you which disease he is having?

b) Due to which deficiency and by which food source it deficiency can be fulfilled?

c) What value have you learnt from above?

2.a) Define reflex action? Illustrate some examples from daily life?

b) Your eyes have pupil inside it can you discuss in class the role of pupil in eye sight?

3.a) Draw a labelled diagram of solar eclipse?

b) Summarize some achievements of APOLLO 11?

HALF YEARLY (REVISION EXAM)(2017-18)
SUBJECT- SOCIAL SCIENCE
CLASS – V

Maximum marks:40

Attempt all the questions.

Section A contains 7 multiple choice questions of one mark each.

Section B contains 6 short questions of 3 marks each.

Section C contains 3 long questions of 5 marks each. (attach the map inside your answer book.)

SECTION-A

Choose the correct answer-

(1X7=7)

1.The highest mountain peak on the earth is located in_____.

- a. Australia b. Africa c. Asia d. North America.**

2.A nomadic tribe found in Australia_____.

- a. Aborigines b. Tuaregs c. Banjaras d. Bedouins**

3. Which of these divides the earth into eastern and western hemispheres?

- a. Equator b.Prime meridian c. North pole d. South pole**

4.Which zone extends from the Tropic of Cancer to the Tropic of Capricorn?

- a. The Frigid zone b. The Temperate zone c. The torrid zone d. None of these.**

5.Who defeated Siraj-ud-Daulah?

- a. Richard Wellesley b.Lord Curzon c. Lord Dalhousie d. Robert Clive**

6. In the month of December, the south pole of the earth is_____.

- a. Straight b. Tilted towards the sun c. Tilted away from the sun d. None of these**

Section-B

Answer these Questions-

(6X3=18)

Q1. The sun gives us heat which is important to support life on earth. Imagine the situation where sun has not risen for one year. What would happen and how would life on earth be?

Q2.Suppose you are going to visit as a tourist to Gobi desert, differentiate the climatic conditions of Gobi desert with your area.

Q3. Look at the picture and answer the following questions:-



i. Name the Indian ruler shown in above picture.

ii. To which revolt will you associate them?

iii. Why the above ruler joined the revolt?

Q4. Write a fact file on smallest continent of world.

Q5. What would happen if there is no atmosphere?

Q6. 'In the ancient times, people believed that the earth was flat'. Do you agree with the statement?

SECTION-C

Answer these Questions-

(5X3=10)

Q1. Imaginary lines are a number of horizontal and vertical lines all over the globe. Differentiate between the lines those run from north to south and those run from east to west.

Q2. With the help of diagram explain the three climate zones of earth.

Q3. Mark on the physical map of world:-

1. North America
2. Australia
3. Largest continent
4. 'S' shaped ocean
5. Arctic ocean